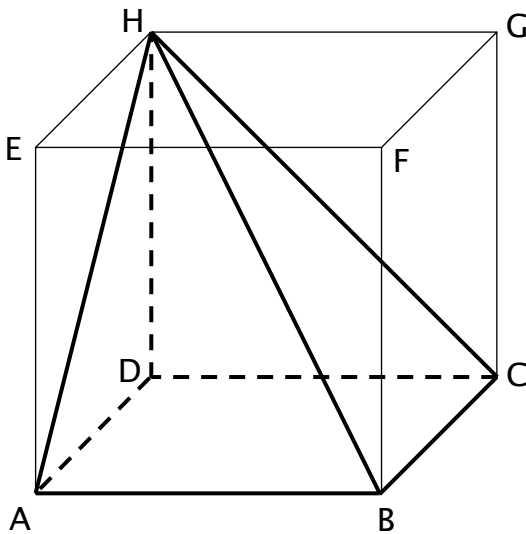


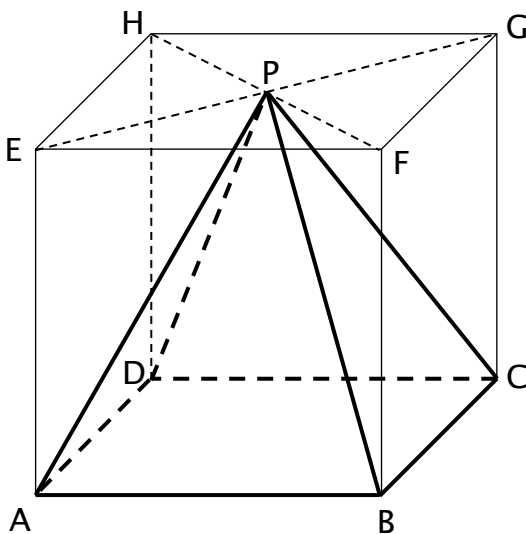
Piramidi nel cubo

Considera le seguenti piramidi, tutte ricavate da un cubo di spigolo 6 cm. Per ogni piramide calcola la sua area totale. Lavora mantenendo i valori esatti, senza approssimazioni.

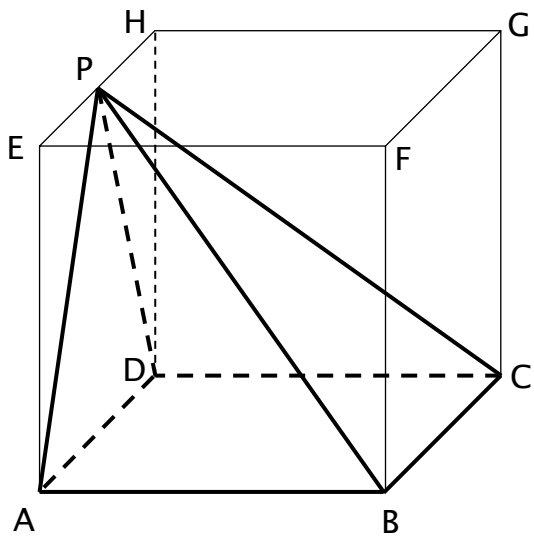
Piramide 1: di base ABCD e vertice H



Piramide 2: di base ABCD e vertice P



Piramide 3: di base ABCD e vertice P (punto medio di EH)



Piramide 4: di base ABC e vertice H

