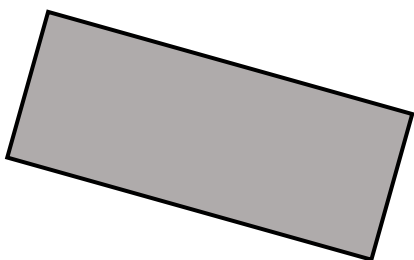


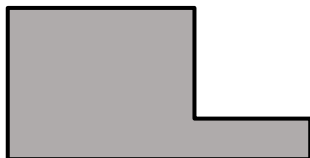



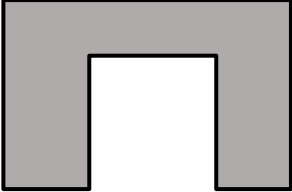
 $A = 6 \cdot s^2$	<h2 style="margin: 0;">Confronto di perimetri</h2>
--	--



Quale poligono ha perimetro maggiore? Il poligono A o il poligono B?


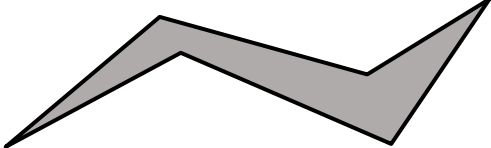
Per ogni situazione, dai prima una risposta ad “occhio”, poi prendi le misure dal disegno, fai i calcoli e verifica se la tua ipotesi era corretta.

Poligono A	Poligono B
	
Stima ad occhio: <input type="checkbox"/> Poligono A	<input type="checkbox"/> Poligono B <input type="checkbox"/> Uguale
$P_A =$	$P_B =$
Perimetro di A: ..... cm	Perimetro di B: ..... cm
Conclusione: <input type="checkbox"/> Poligono A	<input type="checkbox"/> Poligono B <input type="checkbox"/> Uguale

Poligono A	Poligono B
	
Stima ad occhio: <input type="checkbox"/> Poligono A	<input type="checkbox"/> Poligono B <input type="checkbox"/> Uguale
$P_A =$	$P_B =$
Perimetro di A: ..... cm	Perimetro di B: ..... cm
Conclusione: <input type="checkbox"/> Poligono A	<input type="checkbox"/> Poligono B <input type="checkbox"/> Uguale

Poligono A	Poligono B
	
Stima ad occhio: <input type="checkbox"/> Poligono A	<input type="checkbox"/> Poligono B <input type="checkbox"/> Uguale
$P_A =$	$P_B =$
Perimetro di A: ..... cm	Perimetro di B: ..... cm
Conclusione: <input type="checkbox"/> Poligono A	<input type="checkbox"/> Poligono B <input type="checkbox"/> Uguale

Poligono A	Poligono B
	
Stima ad occhio: <input type="checkbox"/> Poligono A	<input type="checkbox"/> Poligono B <input type="checkbox"/> Uguale
$P_A =$	$P_B =$
Perimetro di A: ..... cm	Perimetro di B: ..... cm
Conclusione: <input type="checkbox"/> Poligono A	<input type="checkbox"/> Poligono B <input type="checkbox"/> Uguale

Poligono A	Poligono B
	
Stima ad occhio: <input type="checkbox"/> Poligono A	<input type="checkbox"/> Poligono B <input type="checkbox"/> Uguale
$P_A =$	$P_B =$
Perimetro di A: ..... cm	Perimetro di B: ..... cm
Conclusione: <input type="checkbox"/> Poligono A	<input type="checkbox"/> Poligono B <input type="checkbox"/> Uguale